

გაითვალისწინეთ, აღნიშნული ტესტი არის მხოლოდ ფინალური ტურის ნიმუში. ფინალურ ტურში დაგხვდებათ 12 საკითხი. გისურვებთ გამარჯვებას!

მე-3 კლასი

1. (4 ქულა) ვიცით, რომ მენაყინემ გუშინ და დღეს ჯამურად 60 ცალი ნაყინი გაყიდა, ასევე ვიცით რომ დღეს გაყიდული ნაყინების რაოდენობა ორჯერ მეტია იმაზე, რაც გუშინ გაიყიდა. რამდენი ნაყინი გაიყიდა დღეს?
 ა. 20 ბ. 30 გ. 40 დ. 120

შეკითხვებს უპასუხეთ მოცემული ცხრილის მიხედვით. ცხრილში ნაჩვენებია მეტისის საახალწლო მაღაზიაში კვირის რომელ დღეს რა ნივთები გაიყიდა. 1 ნახატი = 1 ნივთს.

2. (7 ქულა) რომელ დღეს მეტი ნივთი გაიყიდა სამშაბათს თუ ოთხშაბათს?
 ა. სამშაბათს
 ბ. ოთხშაბათს
 გ. თანაბრად
 დ. ვერ გავიგებთ





3. (9 ქულა) რამდენი განსხვავებული ნივთი გაიყიდა ორშაბათს და სამშაბათს ერთად?
 ა. 4 ბ. 10 გ. 11 დ. 26

4. (6 ქულა) ლილემ მათემატიკის კონკურსში 15 ქულით ნაკლები დააგროვა ბექაზე, რომელმაც 35 ქულა დააგროვა. კოკამ ლილეს დაგროვებული ქულის ნახევარი დააგროვა. რამდენი ქულა დააგროვა კოკამ?
 ა. 10 ბ. 20 გ. 25 დ. 40

5. (7 ქულა) რა რიცხვი უნდა ეწეროს ვარსკვლავის ნაცვლად?
 ა. 3 ბ. 4 გ. 5 დ. 6

 +  = 3	 +  = 5
 +  = 4	 +  = 

6. (6 ქულა) თუ გუშინ არ იყიდებოდა ორშაბათი და არც ხუთშაბათი რომელი დღე ვერ იქნება ზეგ?
 ა. ორშაბათი ბ. ხუთშაბათი გ. პარასკევი დ. აბათი

დღე	გაყიდული ნივთები
ორშაბათი	
სამშაბათი	
ოთხშაბათი	
ხუთშაბათი	
პარასკევი	