

მე-2 კლასი

1. ჩამოთვლილთაგან რომელია უდიდესი?

- A. $1+3$ B. $1+2$ C. $5-3$

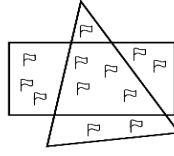
2. მოცემული ფიგურებიდან რამდენს აქვს ოთხი გვერდი:

- A. არც ერთს B. სამს C. ორს




3. რამდენი დროშაა სამკუთხედის შიგნით?

- A. 5 B. 7 C. 8



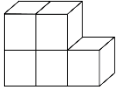
4. რა მანძილია პირველი ხიდან მეექვსე ხემდე, თუ ხეებს შორის დაშორებები თანაბარია და თითოეული დაშორების სიგრძე 2 მეტრია?

- A. 12 მ. B. 8 მ. C. 10 მ.




5. მოცემული ნახატის მიხედვით, კიდევ რამდენი კუბიკი სჭირდება მათეს 3 სართულიანი კიბის ასაშენებლად?

- A. 1 B. 5 C. 6



6. სურათის მიხედვით დაადგინეთ რამდენი ვაშლი მოწყვიტა ქეთომ, თუ თავდაპირველად ხეზე 10 ვაშლი იყო?

- A. 1 B. 19 C. 3

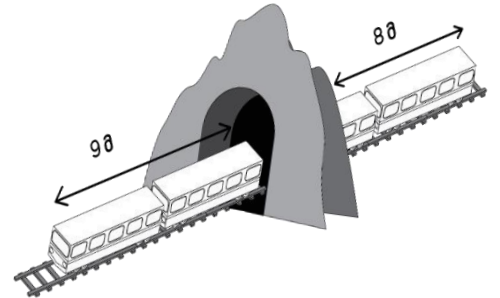


7. რამდენით არის მეტი 4-ის და 6-ის ჯამი 5-ზე?

- A. 5-ით B. 6-ით C. 7-ით


8. ნახატის მიხედვით გამოთვალეთ რა სიგრძის არის გვირაბი, თუ მატარებლის სიგრძეა 25 მეტრი?

- A. 8 მ. B. 10 მ. C. 12 მ.



9. მოცემულ კვადრატში ყველაზე ცოტა კიდევ რამდენი უჯრა უნდა გავაფერადოთ, რომ გაფერადებულები მეტი იყოს გაუფერადებულებზე?

- A. 1 B. 2 C. 3



10. მოცემული ნახატის მიხედვით, რა ნომერ საფეხურზე შეხვდებიან ბაყაყები ერთმანეთს, თუ ისინი მორიგეობით მიიწევენ წინ 1 საფეხურით?

- A. 18 B. 19 C. 20

