






მე-3 კლასი

უპასუხეთ შეკითხვებს 1-6 ცხრილის მიხედვით.

ცხრილში თქვენ ხელავთ ლანას მაღაზიაში გაყიდულ ყავის ფინჯანთა რაოდენობას კვირის დღეების მიხედვით.

დღე	გაყიდული ფინჯანი
ორშაბათი	
სამშაბათი	
ოთხშაბათი	
ხუთშაბათი	
პარასკევი	

- რომელ დღეს გაიყიდა 6 ფინჯანი ყავა?
 A. ორშაბათს (მხოლოდ)
 B. პარასკევს (მხოლოდ)
 C. ორშაბათსაც და პარასკევსაც
- რამდენით აღემატება ყველაზე დიდი გაყიდული რაოდენობა ყველაზე მცირეს?
 A. 2-ით B. 5-ით C. 6-ით
- რამდენი ფინჯანი ყავა გაიყიდა ოთხშაბათს და სამშაბათს ერთად?
 A. 9 B. 7 C. 4
- რომელია მეტი სამშაბათს გაყიდულ ყავის ფინჯანთა რაოდენობა თუ პარასკევს?
 A. სამშაბათს გაყიდულ ყავის ფინჯანთა რაოდენობა
 B. პარასკევს გაყიდულ ყავის ფინჯანთა რაოდენობა
 C. თანაბარია
- რამდენჯერ მეტია ორშაბათს გაყიდულ ყავის ფინჯანთა რაოდენობა სამშაბათს გაყიდულ ყავის ფინჯანთა რაოდენობაზე?
 A. 2-ჯერ B. 3-ჯერ C. 4-ჯერ
- ნუცა ლანას მაღაზიის ერთ-ერთი მომხმარებელია ჩვენ ვიცით, რომ ფინჯანი ყავა 3 ლარი ღირს რა თანხა დახარჯა ნუცამ ლანას მაღაზიაში ხუთშაბათს?
 A. 3 ლარი B. 6 ლარი C. ვერ დავადგენთ

