

მე-3 კლასი

1. ცარიელი კასრი იწონის 1 კგ-ს, ნახევრად სავსე 2 კგ-ს, მოცემული ნახატის მიხედვით, გამოთვალეთ რას იწონის სავსე კასრი:



1კგ



2კგ



?????

A. 3 კგ 500 გ

B. 3კგ

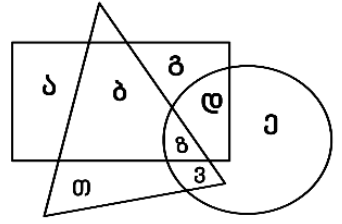
C. 5კგ

2. რომელი ასოები არის ჩაწერილი წრეში?

A. ა, ბ, გ, დ

B. ე, ვ, ზ, დ

C. ბ, ვ, ზ, თ



3. ჩამოთვლილებიდან რომელი გამოსახულების მნიშვნელობაა უდიდესი?

A. 15+5

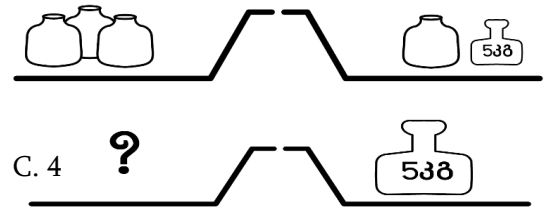
B. 25-5

C. 13+8

4. მოცემული ნახატის მიხედვით, რამდენი ქილა უნდა დავდოთ კითხვის ნიშნის ნაცვლად, რომ სასწორი გაწონასწორდეს?

A. 2

B. 3



C. 4

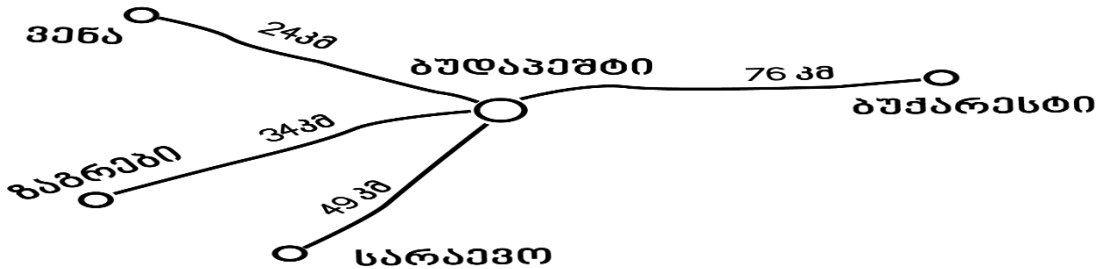
5. რამდენი რიცხვია მეტი 13-ზე და ნაკლები 21-ზე ერთდროულად?

A. 7

B. 8

C. 9

6. მოცემული ნახატის მიხედვით დაადგინეთ რა მანძილია ვენიდან ყველაზე შორ ქალაქამდე?

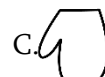
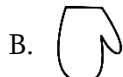


A. 100 კმ.

B. 58 კმ.

C. 73კმ.

7. ხელთათმანი ბრუნავს ნაჩვენები მიმართულებით:  რომელ მდებარეობას ვერ მივიღებთ?

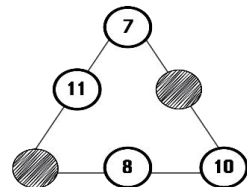


8. სამკუთხედის ყველა გვერდზე რიცხვების ჯამი 23-ის ტოლია, რას უდრის გაფერადებულ უჯრებში ჩაწერილი რიცხვების ჯამი?

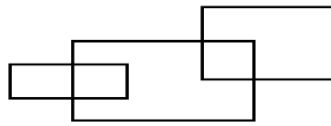
A. 11

B. 12

C. 13



9. რამდენი მართკუთხედია ნახაზზე?



- A. 5 B. 6 C. 7

10. სულ მცირე რა მანძილის გავლა მოუწევს ნიკოს სახლიდან სკოლამდე, თუ თითოეული ხიდის სიგრძე ცალ-ცალკე 25 მეტრია?

- A. 125 მ. B. 130 მ. C. 140 მ.

