

## მე-3 კლასი

### ძირითადი დავალებები (100 ქულა)

1. (8 ქულა) ცარიელი კასრი იწონის 1 კგ-ს, ნახევრად სავსე 2 კგ-ს, მოცემული ნახატი მისხედვით, გამოთვალეთ რას იწონის სავსე კასრი:



1კგ



2კგ



?????

A. 3 კგ 500 გ

B. 3კგ

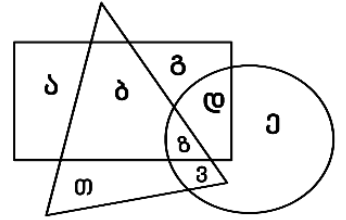
C. 5კგ

2. (8 ქულა) რომელი ასოები არის ჩაწერილი წრეში?

A. ა, ბ, გ, დ

B. ე, ვ, ზ, დ

C. ბ, ვ, ზ, თ



3. (8 ქულა) ჩამოთვლილებიდან რომელი გამოსახულების მნიშვნელობაა უდიდესი?

A. 15+5

B. 25-5

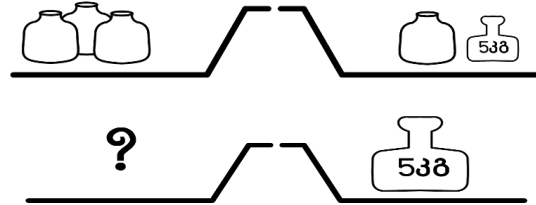
C. 13+8

4. (8 ქულა) მოცემული ნახატი მისხედვით, რამდენი ქილა უნდა დავლოთ კითხვის ნიშნის ნაცვლად, რომ სასწორი გაწონასწორდეს?

A. 2

B. 3

C. 4



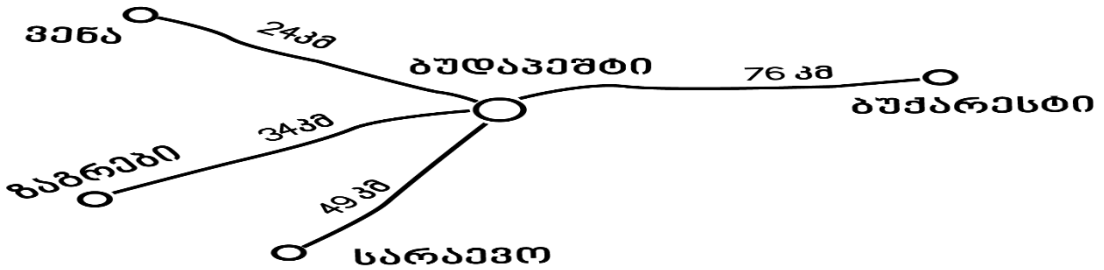
5. (10 ქულა) რამდენი რიცხვია მეტი 13-ზე და ნაკლები 21-ზე ერთდროულად?

A. 7

B. 8

C. 9

6. (10 ქულა) მოცემული ნახატი მისხედვით დაადგინეთ რა მანძილია ვენიდან ყველაზე შორ ქალაქამდე?

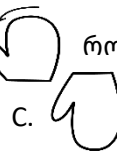
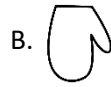


A. 100 კმ.

B. 58 კმ.

C. 73კმ.

7. (11 ქულა) ხელთათმანი ბრუნავს ნაჩვენები მიმართულებით: რომელ მდებარეობას ვერ მივიღებთ?

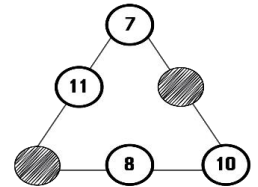


8. (12 ქულა) სამკუთხედის ყველა გვერდზე რიცხვების ჯამი 23-ის ტოლია, რას უდრის გაფერადებულ უჯრებში ჩაწერილი რიცხვების ჯამი?

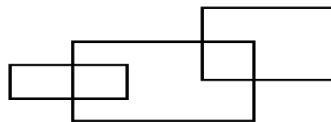
A. 11

B. 12

C. 13



9. (12 ქულა) რამდენი მართკუთხედია ნახაზზე?



A. 5

B. 6

C. 7

10. (13 ქულა) სულ მცირე რა მანძილის გავლა მოუწევს ნიკოს სახლიდან სკოლამდე, თუ თითოეული ხიდის სიგრძე ცალ-ცალკე 25 მეტრია?

A. 125 მ.

B. 130 მ.

C. 140 მ.

